

Domande del repository "IO"

Totale domande: 80

1 -- 1 (Categoria: 1_TPP)

Quando deve essere effettuato il test di Guthrie secondo le linee guida?

- A (1) Entro le prime 72 ore di vita del neonato ✓ (Risposta esatta)
 - B (-0,25) Entro le prime 6 ore di vita del neonato
 - C (-0,25) Nell'ultimo mese di gravidanza
 - D (-0,25) Entro la prima settimana di vita del neonato
 - E (-0,25) Entro le prime 24 ore di vita del neonato
-

2 -- 2 (Categoria: 1_TPP)

La disinfezione terminale viene praticata:

- A (1) nelle sale operatorie dopo interventi chirurgici ✓ (Risposta esatta)
 - B (-0,25) nella stanza di degenza di un paziente terminale
 - C (-0,25) nelle sale di attesa ospedaliera
 - D (-0,25) nei locali pubblici
 - E (-0,25) nessuna delle altre alternative è corretta
-

3 -- 3 (Categoria: 1_TPP)

Un bambino di tre anni presenta un'enterite acuta febbrile. Quale tra i seguenti interventi è prioritario?

- A (1) Fornire una corretta reidratazione ✓ (Risposta esatta)
 - B (-0,25) Somministrare l'antibiotico
 - C (-0,25) Somministrare l'antipiretico
 - D (-0,25) Eseguire spugnature
 - E (-0,25) Posizionare ghiaccio sulla nuca
-

4 -- 4 (Categoria: 1_TPP)

Nel primo anno di vita, la crescita in peso dei bambini allattati al seno è:

- A (1) minore rispetto ai bambini allattati con formula ✓ (Risposta esatta)
- B (-0,25) diversa solo nei primi tre mesi di vita rispetto ai bambini allattati con formula
- C (-0,25) maggiore rispetto ai bambini allattati con formula
- D (-0,25) uguale rispetto ai bambini allattati con formula
- E (-0,25) diversa solo nel primo mese di vita rispetto ai bambini allattati con formula

5 -- 5 (Categoria: 1_TPP)

La terapia del diabete gestazionale in gravidanza prevede:

- A** (1) dieta e insulina solo se necessario in base alle glicemie materne ✓ (Risposta esatta)
- B** (-0,25) solo antidiabetici orali
- C** (-0,25) sempre insulina
- D** (-0,25) nessuna terapia
- E** (-0,25) sempre e solo dieta

6 -- 6 (Categoria: 1_TPP)

Il trattamento della sindrome iperglicemica iperosmolare non chetonica prevede, oltre alla somministrazione d'insulina:

- A** (1) l'infusione, per via endovenosa, di soluzione fisiologica e reidratante ✓ (Risposta esatta)
- B** (-0,25) la somministrazione di glucagone per via intramuscolare
- C** (-0,25) la somministrazione di bicarbonato per via endovenosa
- D** (-0,25) l'infusione di soluzioni iperosmolari tamponate con insulina
- E** (-0,25) la somministrazione di diuretici dell'ansa e risparmiatori di potassio

7 -- 7 (Categoria: 1_TPP)

Quale tra i seguenti è il principale fattore determinante nella frequenza di aborto spontaneo?

- A** (1) Età materna ✓ (Risposta esatta)
- B** (-0,25) Abitudine al fumo di sigaretta
- C** (-0,25) Età paterna
- D** (-0,25) Altezza inferiore alla media
- E** (-0,25) Fattore V Leiden

8 -- 8 (Categoria: 1_TPP)

Quale dei seguenti è il principale agente eziologico di diarrea acuta in età pediatrica?

- A** (1) Rotavirus ✓ (Risposta esatta)
- B** (-0,25) Escherichia coli
- C** (-0,25) Salmonella
- D** (-0,25) Candida
- E** (-0,25) Streptococco

9 -- 9 (Categoria: 1_TPP)

L'/Gli elemento/i caratteristico/i della varicella è/sono:

- A (1) vescicola a goccia di rugiada ✓ (Risposta esatta)
 - B (-0,25) ulcera sottoungueale
 - C (-0,25) lesioni a grappolo
 - D (-0,25) eritemi alle pieghe
 - E (-0,25) congiuntivite purulenta
-

10 -- 10 (Categoria: 1_TPP)

Il bendaggio funzionale della caviglia va effettuato con:

- A (1) caviglia allineata e flessa a 90° ✓ (Risposta esatta)
 - B (-0,25) caviglia allineata e flessa a 45°
 - C (-0,25) caviglia allineata ed estesa
 - D (-0,25) caviglia allineata e flessa a 35°
 - E (-0,25) nessuna delle altre alternative è corretta
-

11 -- 11 (Categoria: 1_TPP)

I letti fluidizzati sono indispensabili per:

- A (1) ustioni e/o innesti cutanei ✓ (Risposta esatta)
 - B (-0,25) lesioni spinali non trattate
 - C (-0,25) trazione delle ossa lunghe o cervicale
 - D (-0,25) prevenzione e trattamento delle infezioni respiratorie
 - E (-0,25) insonnia grave
-

12 -- 12 (Categoria: 1_TPP)

Quali sono gli elementi che costituiscono le diagnosi infermieristiche reali (metodo NANDA)?

- A (1) Titolo, definizione, caratteristiche definenti, fattori correlati ✓ (Risposta esatta)
 - B (-0,25) Titolo, caratteristiche definenti, fattori correlati
 - C (-0,25) Titolo, cause, caratteristiche definenti, fattori correlati
 - D (-0,25) Titolo, definizione, contesto clinico, fattori correlati
 - E (-0,25) Assunto, definizione, caratteristiche definenti, fattori correlati
-

13 -- 13 (Categoria: 1_TPP)

Che cosa indica l'acronimo NIC?

- A (1) Significa "Nursing Interventions Classification" ed è la classificazione tassonomica degli interventi infermieristici, sviluppata dall'Iowa Intervention Project ✓ (Risposta esatta)

- B** (-0,25) Significa "Nursing Implementations Classification" ed è la classificazione tassonomica degli interventi infermieristici, sviluppata dall'Iowa Implementations Project
- C** (-0,25) Significa "Nursing Implementations Classification" ed è la classificazione tassonomica degli agenti che interferiscono con gli interventi di assistenza infermieristica, sviluppata dall'Iowa Implementations Project
- D** (-0,25) Significa "Nursing Interventions Classification" ed è la classificazione degli interventi infermieristici, sviluppata dal programma NANDA-I
- E** (-0,25) Significa "Nursing Interventions Classification" ed è la classificazione tassonomica degli interventi infermieristici, sviluppata dalla collaborazione tra Nursing International League e Physicians World Association
-

14 -- 14 (Categoria: 1_TPP)

Indicare quali, tra i seguenti valori di Kaliemia, possono essere considerati normali nell'adulto.

- A** (1) 3,5 - 5,0 mEq/L ✓ (Risposta esatta)
- B** (-0,25) 3,5 - 7,0 mEq/L
- C** (-0,25) 3,5 - 6,0 mEq/L
- D** (-0,25) 1,5 - 3,5 mEq/L
- E** (-0,25) 0,5 - 2,5 mEq/L
-

15 -- 15 (Categoria: 1_TPP)

Quando viene somministrato il vaccino esavalente?

- A** (1) Al 3°, 5° e all'11° mese di vita per via intramuscolare nella coscia del bambino ✓ (Risposta esatta)
- B** (-0,25) Al 2° e al 6° mese di vita per via intramuscolare nella coscia del bambino
- C** (-0,25) Come ciclo primario nel secondo anno di vita, per via intramuscolare nella coscia del bambino
- D** (-0,25) Al 3° e 6° mese di vita per via intramuscolare nella coscia del bambino
- E** (-0,25) Al 4° mese di vita per via intramuscolare nella coscia del bambino
-

16 -- 16 (Categoria: 1_TPP)

In caso di sindrome da aspirazione di meconio, il neonato non vigoroso deve essere sottoposto a rianimazione primaria con:

- A** (1) intubazione oro o nasotracheale immediata ✓ (Risposta esatta)
- B** (-0,25) aspirazione delle prime vie aeree seguita da energica stimolazione
- C** (-0,25) ventilazione con maschera e pallone flusso-dipendente
- D** (-0,25) posizionamento di un sondino orogastrico
- E** (-0,25) posizionamento di un sondino nasogastrico
-

17 -- 17 (Categoria: 1_TPP)

Lo score di Silverman è una scala:

- A** (1) che valuta il neonato affetto da Sindrome da distress respiratorio ✓ (Risposta esatta)
 - B** (-0,25) del dolore procedurale
 - C** (-0,25) utilizzata per la valutazione delle lesioni da pressione
 - D** (-0,25) per la quale a ogni parametro preso in considerazione è assegnato un punteggio massimo di 3
 - E** (-0,25) che valuta l'accrescimento del bambino in età pediatrica e per la quale a ogni parametro preso in considerazione è assegnato un punteggio di 2
-

18 -- 18 (Categoria: 1_TPP)

Qual è l'ordine di sequenza delle azioni preliminari intraprese nel BLS pediatrico?

- A** (1) Sicurezza - stimolazione - soccorso ✓ (Risposta esatta)
 - B** (-0,25) Soccorso - sicurezza - stimolazione
 - C** (-0,25) Stimolazione - soccorso - sicurezza
 - D** (-0,25) Sicurezza - soccorso - stimolazione
 - E** (-0,25) Stimolazione - soccorso - rivalutazione
-

19 -- 19 (Categoria: 1_TPP)

Quale delle seguenti affermazioni sulla scala ASA è corretta?

- A** (1) Valuta il rischio anestesiológico in base alle condizioni del paziente ✓ (Risposta esatta)
 - B** (-0,25) Valuta il grado delle lesioni da decubito nel paziente allettato
 - C** (-0,25) Valuta la gravità delle ulcere nel paziente con piede diabetico
 - D** (-0,25) Valuta il grado di coscienza e la risposta motoria in un paziente sottoposto ad anestesia generale
 - E** (-0,25) Valuta il recupero funzionale in un paziente colpito da ictus cerebri
-

20 -- 20 (Categoria: 1_TPP)

Il tumore della cervice uterina può essere causato:

- A** (1) dal Papilloma Virus ✓ (Risposta esatta)
 - B** (-0,25) dall'Herpes Virus
 - C** (-0,25) dalla Clamidia Tracomatis
 - D** (-0,25) dal Trichomonas
 - E** (-0,25) dalla Candida Albicans
-

21 -- 21 (Categoria: 1_TPP)

Il Vabra è un esame diagnostico che si effettua:

- A (1)** sull'endometrio ✓ **(Risposta esatta)**
B (-0,25) sulla portio
C (-0,25) nell'ovaio
D (-0,25) nella tuba
E (-0,25) nella cervice
-

22 -- 22 (Categoria: 1_TPP)

L'endometriosi è tipicamente caratterizzata da:

- A (1)** dismenorrea - dispareunia - infertilità ✓ **(Risposta esatta)**
B (-0,25) cistite - irregolarità mestruale - dispareunia
C (-0,25) dismenorrea - dispareunia - metrorragia
D (-0,25) infertilità - dolore pelvico - irsutismo
E (-0,25) irsutismo - infertilità - meno metrorragie
-

23 -- 23 (Categoria: 1_TPP)

Quale delle seguenti alternative contiene la corretta definizione di allattamento al seno esclusivo secondo le indicazioni OMS/UNICEF?

- A (1)** Il lattante riceve solo latte materno, incluso latte materno spremuto o latte materno donato, escludendo altri alimenti solidi o liquidi, compresa l'acqua, ma può ricevere gocce, sciroppi, vitamine, sali minerali, farmaci, soluzioni reidratanti orali ✓ **(Risposta esatta)**
B (-0,25) Il lattante riceve solo latte materno e liquidi non nutritivi come acqua semplice o zuccherata, tè, camomilla, tisane, infusioni, succhi di frutta non zuccherati, e può ricevere soluzioni reidratanti orali, gocce o sciroppi di vitamine, supplementi minerali o farmaci. Nessun altro liquido nutritivo è permesso sotto questa definizione
C (-0,25) Il bambino riceve latte materno con l'aggiunta di altri alimenti liquidi (ad esempio latte artificiale, brodo vegetale o di carne), semiliquidi (ad esempio pappe di cereali, frutta, verdura, carne, pesce) o solidi (ad esempio biscotti)
D (-0,25) Il bambino non riceve latte materno ma è alimentato con latte di formula
E (-0,25) Il bambino riceve solo latte di donna, materno o donato
-

24 -- 24 (Categoria: 1_TPP)

Un neonato che assume una quantità sufficiente di latte dalla madre, dopo la montata latte:

- A (1)** bagna 6-8 pannolini nelle 24 ore e ha frequenti scariche giallo oro ✓ **(Risposta esatta)**
B (-0,25) dorme per almeno 6 ore durante la notte
C (-0,25) si alimenta al seno 6-8 volte nelle 24 ore
D (-0,25) si alimenta al seno per 5 minuti e poi si addormenta
E (-0,25) si alimenta al seno 3-4 volte nelle 24 ore

25 -- 25 (Categoria: 1_TPP)

Quale dei seguenti NON è un effetto dell'utilizzo del rooming-in?

- A** (1) Il rischio di infezioni nosocomiali per il neonato aumenta sensibilmente ✓ **(Risposta esatta)**
- B** (-0,25) La montata latte insorge più precocemente
- C** (-0,25) L'allattamento al seno si instaura con più facilità
- D** (-0,25) Il bambino cresce più velocemente
- E** (-0,25) Sono meno frequenti problemi quali l'ingorgo mammario

26 -- 26 (Categoria: 1_TPP)

Quale delle seguenti affermazioni sulla terapia ormonale sostitutiva che si effettua in menopausa è corretta?

- A** (1) Aumenta il rischio di patologia mammaria ✓ **(Risposta esatta)**
- B** (-0,25) Aumenta il rischio di osteoporosi
- C** (-0,25) Aumenta il livello di Colesterolo totale
- D** (-0,25) Aumenta l'fsh
- E** (-0,25) Aumenta il 17Beta E2

27 -- 27 (Categoria: 1_TPP)

La checklist per il controllo della sicurezza in sala operatoria diffusa dall'OMS nel 2008 si articola in:

- A** (1) Sign In, Time Out, Sign Out ✓ **(Risposta esatta)**
- B** (-0,25) Entry, Time Out, Exit
- C** (-0,25) In-Out surgery, recovery room
- D** (-0,25) Sign In, Sign Out, Recovery Room
- E** (-0,25) nessuna delle altre alternative è corretta

28 -- 28 (Categoria: 1_TPP)

Per eseguire l'igiene del cavo orale in un paziente incosciente, è opportuno fargli assumere la:

- A** (1) posizione laterale ✓ **(Risposta esatta)**
- B** (-0,25) posizione di Trendelenburg
- C** (-0,25) posizione seduta
- D** (-0,25) posizione di Fowler
- E** (-0,25) nessuna delle altre alternative è corretta

29 -- 29 (Categoria: 1_TPP)

In rapporto al peso alla nascita, si parla di "neonato di peso estremamente basso" quando questo è inferiore a:

- A** (1) 1.000 grammi ✓ (Risposta esatta)
 - B** (-0,25) 3.000 grammi
 - C** (-0,25) 2.000 grammi
 - D** (-0,25) 1.500 grammi
 - E** (-0,25) 2.500 grammi
-

30 -- 30 (Categoria: 1_TPP)

Quale delle seguenti condizioni ci si aspetta di riscontrare in un paziente affetto da megacolon?

- A** (1) Assente o ridotta peristalsi ✓ (Risposta esatta)
 - B** (-0,25) Aumentata e dolorosa peristalsi
 - C** (-0,25) Aumentata capacità assorbitiva
 - D** (-0,25) Diminuita capacità assorbitiva
 - E** (-0,25) Produzione di feci picee
-

31 -- 31 (Categoria: 1_TPP)

Al fine di valutare la mobilità uretrale di una donna affetta da incontinenza urinaria da sforzo, la si deve sottoporre:

- A** (1) al Q-Tip test ✓ (Risposta esatta)
 - B** (-0,25) al Leack point pressure
 - C** (-0,25) alla cistomanometria
 - D** (-0,25) alla uroflussimetria
 - E** (-0,25) al PC test
-

32 -- 32 (Categoria: 1_TPP)

Come si chiama la membrana fibrosa che riveste le ossa?

- A** (1) Periostio ✓ (Risposta esatta)
 - B** (-0,25) Endostio
 - C** (-0,25) Epifisi
 - D** (-0,25) Diafisi
 - E** (-0,25) Midollare
-

33 -- 33 (Categoria: 2_LCG)

Beirut è la capitale:

- A (1) del Libano ✓ (Risposta esatta)
B (-0,25) della Siria
C (-0,25) della Turchia
D (-0,25) di Israele
E (-0,25) della Giordania
-

34 -- 34 (Categoria: 2_LCG)

Quale delle seguenti frasi contiene un errore?

- A (1) A noi i rumori della strada non ci danno fastidio ✓ (Risposta esatta)
B (-0,25) Ho assicurato a Paola che le daremo gli appunti di storia
C (-0,25) È bene occuparsi dei fatti propri e non di quelli altrui
D (-0,25) A me la cioccolata piace molto
E (-0,25) Marco mi ha chiesto di restituirgli il libro
-

35 -- 35 (Categoria: 2_LCG)

Il regime fascista in Italia è durato:

- A (1) dal 1922 al 1943 ✓ (Risposta esatta)
B (-0,25) dal 1918 al 1939
C (-0,25) dal 1900 al 1920
D (-0,25) dal 1945 al 1968
E (-0,25) dal 1950 al 1980
-

36 -- 36 (Categoria: 2_LCG)

Completare correttamente la seguente successione numerica:

16; 9; 23; 14; 30; 19; 37; 24; ?; ?

- A (1) 44; 29 ✓ (Risposta esatta)
B (-0,25) 42; 31
C (-0,25) 31; 42
D (-0,25) 29; 44
E (-0,25) 51; 34
-

37 -- 37 (Categoria: 2_LCG)

L'operazione militare "Desert Storm" contro il Presidente iracheno Saddam Hussein si svolse nel:

- A (1) 1991 ✓ (Risposta esatta)
B (-0,25) 1979
C (-0,25) 1980

- D** (-0,25) 2000
E (-0,25) 1988
-

38 -- 38 (Categoria: 2_LCG)

Nessuna beccaccia ha tre zampe. Dire che tale affermazione è FALSA equivale ad affermare che:

- A** (1) almeno una beccaccia ha tre zampe ✓ **(Risposta esatta)**
B (-0,25) almeno una beccaccia ha un numero di zampe diverso da tre
C (-0,25) ogni beccaccia ha tre zampe
D (-0,25) ogni beccaccia ha un numero di zampe diverso da tre
E (-0,25) ogni beccaccia ha quattro zampe
-

39 -- 39 (Categoria: 2_LCG)

In una scuola media sono presenti 50 ragazzi, alcuni frequentano la prima media, altri la seconda media e i rimanenti la terza media. Alcuni ragazzi della scuola hanno i capelli rossi, alcuni scuri e i rimanenti biondi. Si sa che sia i ragazzi che frequentano la prima media sia quelli che frequentano la terza media sono entrambi pari a 20 e che i ragazzi biondi che frequentano la seconda media e quelli con i capelli rossi che frequentano la terza media sono entrambi pari a 3 unità. Si sa, inoltre, che i ragazzi con i capelli scuri che frequentano la prima media e quelli sempre con i capelli scuri che frequentano la terza media sono entrambi pari a 4 unità. Se sia i ragazzi con i capelli rossi sia quelli con i capelli scuri sono entrambi pari a 10 unità, allora si può dedurre che i ragazzi con i capelli rossi che frequentano la prima media sono:

- A** (1) 2 ✓ **(Risposta esatta)**
B (-0,25) 5
C (-0,25) 6
D (-0,25) 4
E (-0,25) 3
-

40 -- 40 (Categoria: 2_LCG)

Quattro colleghi sono nati nel 1981, ma in quattro mesi diversi. Si sa che:

- 1) Paola festeggia il suo compleanno in Agosto;
- 2) Gianni festeggia il compleanno due mesi dopo Simone;
- 3) Stefano festeggia il compleanno prima di Paola ma dopo Gianni;
- 4) Simone festeggia il compleanno in Aprile.

In quale mese festeggia il compleanno Stefano?

- A** (1) Luglio ✓ **(Risposta esatta)**
B (-0,25) Agosto
C (-0,25) Settembre
D (-0,25) Giugno
E (-0,25) Maggio

41 -- 41 (Categoria: 2_LCG)

Indicare l'alternativa che completa in modo corretto la frase:
"L'eccessiva velocità è stata dell'incidente".

- A** (1) concausa ✓ **(Risposta esatta)**
- B** (-0,25) correa
- C** (-0,25) causale
- D** (-0,25) condizionale
- E** (-0,25) conflitto

42 -- 42 (Categoria: 2_LCG)

L'Alsazia è una Regione:

- A** (1) della Francia ✓ **(Risposta esatta)**
- B** (-0,25) della Spagna
- C** (-0,25) della Germania
- D** (-0,25) dell'Austria
- E** (-0,25) del Belgio

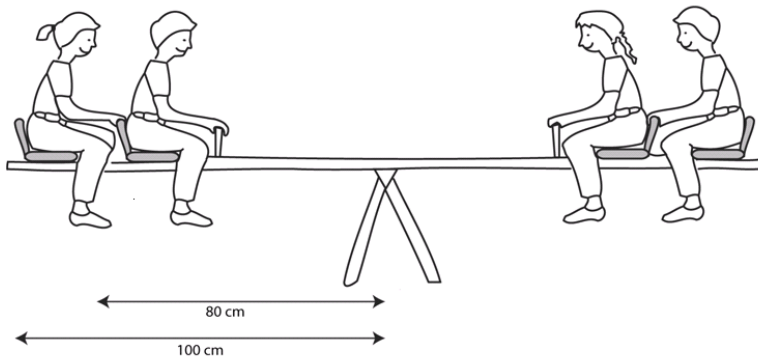
43 -- 43 (Categoria: 2_LCG)

Il prezzo di un prodotto viene ridotto in promozione del 45%. Di quale percentuale lo stesso prodotto deve essere aumentato per rivenderlo al prezzo di partenza?

- A** (1) Circa l'82% ✓ **(Risposta esatta)**
- B** (-0,25) Non è possibile determinarlo con precisione senza conoscere il prezzo del prodotto
- C** (-0,25) 45%
- D** (-0,25) 90%
- E** (-0,25) 22,5%

44 -- 44 (Categoria: 2_LCG)

Quattro bambini giocano su un'altalena che ha due posti per lato. Il seggiolino esterno dista dal perno 100 cm, mentre quello interno 80 cm. Il peso dei bambini è rispettivamente, da destra a sinistra, di 12 kg, 26 kg e 16 kg.



Quanto pesa il quarto bambino, seduto all'estrema sinistra, se l'altalena è in equilibrio?

- A (1) 20 kg ✓ (Risposta esatta)
 - B (-0,25) 24 kg
 - C (-0,25) 14 kg
 - D (-0,25) 18 kg
 - E (-0,25) 22 kg
-

Leggere il brano e rispondere a ogni quesito solo in base alle informazioni contenute (esplicitamente o implicitamente) nel brano e non in base a quanto il candidato eventualmente conosca sull'argomento.

Poco dopo fu ancora più contento, ed ebbe motivo di ringraziare la sua fortuna (e la sua giumenta). Sì, perché proprio verso mezzogiorno - era la festa della Candelora, e il loro settimo giorno di viaggio - Mordicoda balzò fuori dalla sua guaina, e il drago fuori dalla sua caverna. Senza preavviso né formalità saltò fuori a dar battaglia. Piombò su di loro d'impeto e con gran fragore. Lontano da casa non s'era mostrato particolarmente coraggioso, nonostante il suo antico lignaggio imperiale. Ma ora era colmo d'ira, perché stava combattendo sull'uscio di casa sua, per così dire, e con tutto il suo tesoro da difendere. Sbuò da dietro uno sprone della montagna come un enorme fulmine, facendo un boato come di uno scoppio, e con una raffica di lampi rossi. La discussione riguardante la precedenza s'interruppe di colpo. Tutti i cavalli scartarono, chi da un lato chi dall'altro, e alcuni cavalieri furono disarcionati. I cavallini e le salmerie e i servi fecero subito dietrofront e si misero a correre. Loro non avevano alcun dubbio sull'ordine di precedenza. Improvvisamente una raffica di fumo li investì, soffocandoli tutti, e proprio dal bel mezzo il drago piombò sulla testa della fila. Diversi cavalieri furono uccisi ancor prima che potessero formalmente lanciare la loro sfida di battaglia, e molti altri furono investiti e finirono ruzzoloni, con i cavalli e tutto il resto. Quanto agli altri, se ne presero carico i loro destrieri, i quali fecero velocemente dietrofront e fuggirono, trascinando i loro padroni, che essi lo volessero o no. La maggior parte lo voleva, eccome.

Ma la vecchia giumenta grigia non si mosse. Forse temeva di spezzarsi le zampe sul ripido sentiero sassoso. Forse si sentiva troppo stanca per scappare. Sapeva fin dentro le ossa che i draghi alati è più pericoloso averli alle spalle che davanti, e bisognerebbe essere più veloci di un cavallo da corsa per riuscire a fuggire. E poi aveva già visto questo Chrysophylax prima d'ora, e ricordava di averlo inseguito per campi e ruscelli nella sua regione, finché s'era accasciato, mansueto, sulla strada principale del villaggio. Ad ogni modo si puntò sulle zampe ben divaricate, e sbuffò. La faccia dell'agricoltore non avrebbe potuto impallidire di più, ma le rimase accanto; perché non sembrava esserci altro da fare.

E fu così che il drago, mentre caricava tutta la fila, vide improvvisamente davanti a sé il suo vecchio nemico con in mano Mordicoda. Era l'ultima cosa che si sarebbe aspettato. Virò di lato come un grande pipistrello e andò a sbattere sul versante della collina vicino alla strada. La giumenta grigia avanzò, del tutto dimentica di essere zoppa. Giles l'Agricoltore, alquanto incoraggiato, le si era arrampicato in groppa in tutta fretta.

«Scusami,» disse, «ma stavi per caso cercando me?» «No davvero!» rispose Chrysophylax. «Chi avrebbe mai pensato di trovarti qui? Stavo semplicemente volando qua in giro.»

«Allora è la buona sorte che ci ha fatto incontrare» disse Giles, «e il piacere è mio; perché stavo cercando proprio te. Per di più, ho un conto da saldare con te; diversi conti, per così dire.»

(da "Il Cacciatore di Draghi", di J. R. R. Tolkien)

La giumenta non fugge davanti al drago per tutti i seguenti motivi, effettivi o solo suggeriti dal narratore, TRANNE uno. Quale?

- A (1) Era un animale dal pessimo carattere e non aveva voglia di assecondare il suo padrone nella fuga, dunque sbuffò e non si mosse ✓ (Risposta esatta)
- B (-0,25) Aveva paura di farsi male sul ripido sentiero pietroso
- C (-0,25) Era troppo stanca per mettersi a correre
- D (-0,25) Sapeva che i draghi alati alle spalle sono molto più pericolosi
- E (-0,25) Sapeva che per sfuggire a un drago è necessario essere più veloci di un cavallo da corsa e lei era solo una giumenta

Leggere il brano e rispondere a ogni quesito solo in base alle informazioni contenute (esplicitamente o implicitamente) nel brano e non in base a quanto il candidato eventualmente conosca sull'argomento.

Poco dopo fu ancora più contento, ed ebbe motivo di ringraziare la sua fortuna (e la sua giumenta). Sì, perché proprio verso mezzogiorno - era la festa della Candelora, e il loro settimo giorno di viaggio - Mordicoda balzò fuori dalla sua guaina, e il drago fuori dalla sua caverna. Senza preavviso né formalità saltò fuori a dar battaglia. Piombò su di loro d'impeto e con gran fragore. Lontano da casa non s'era mostrato particolarmente coraggioso, nonostante il suo antico lignaggio imperiale. Ma ora era colmo d'ira, perché stava combattendo sull'uscio di casa sua, per così dire, e con tutto il suo tesoro da difendere. Sbucò da dietro uno sprone della montagna come un enorme fulmine, facendo un boato come di uno scoppio, e con una raffica di lampi rossi. La discussione riguardante la precedenza s'interruppe di colpo. Tutti i cavalli scartarono, chi da un lato chi dall'altro, e alcuni cavalieri furono disarcionati. I cavallini e le salmerie e i servi fecero subito dietrofront e si misero a correre. Loro non avevano alcun dubbio sull'ordine di precedenza. Improvvisamente una raffica di fumo li investì, soffocandoli tutti, e proprio dal bel mezzo il drago piombò sulla testa della fila. Diversi cavalieri furono uccisi ancor prima che potessero formalmente lanciare la loro sfida di battaglia, e molti altri furono investiti e finirono ruzzoloni, con i cavalli e tutto il resto. Quanto agli altri, se ne presero carico i loro destrieri, i quali fecero velocemente dietrofront e fuggirono, trascinando i loro padroni, che essi lo volessero o no. La maggior parte lo voleva, eccome.

Ma la vecchia giumenta grigia non si mosse. Forse temeva di spezzarsi le zampe sul ripido sentiero sassoso. Forse si sentiva troppo stanca per scappare. Sapeva fin dentro le ossa che i draghi alati è più pericoloso averli alle spalle che davanti, e bisognerebbe essere più veloci di un cavallo da corsa per riuscire a fuggire. E poi aveva già visto questo Chrysophylax prima d'ora, e ricordava di averlo inseguito per campi e ruscelli nella sua regione, finché s'era accasciato, mansueto, sulla strada principale del villaggio. Ad ogni modo si puntò sulle zampe ben divaricate, e sbuffò. La faccia dell'agricoltore non avrebbe potuto impallidire di più, ma le rimase accanto; perché non sembrava esserci altro da fare.

E fu così che il drago, mentre caricava tutta la fila, vide improvvisamente davanti a sé il suo vecchio nemico con in mano Mordicoda. Era l'ultima cosa che si sarebbe aspettato. Virò di lato come un grande pipistrello e andò a sbattere sul versante della collina vicino alla strada. La giumenta grigia avanzò, del tutto dimentica di essere zoppa. Giles l'Agricoltore, alquanto incoraggiato, le si era arrampicato in groppa in tutta fretta.

«Scusami,» disse, «ma stavi per caso cercando me?» «No davvero!» rispose Chrysophylax. «Chi avrebbe mai pensato di trovarti qui? Stavo semplicemente volando qua in giro.»

«Allora è la buona sorte che ci ha fatto incontrare» disse Giles, «e il piacere è mio; perché stavo cercando proprio te. Per di più, ho un conto da saldare con te; diversi conti, per così dire.»

(da "Il Cacciatore di Draghi", di J. R. R. Tolkien)

Quale delle seguenti alternative rappresenta una versione sinonimica della frase "Piombò su di loro d'impeto e con gran fragore"?

- A (1) Si scagliò su di loro con veemenza e con gran fragore ✓ (Risposta esatta)
- B (-0,25) Piombò su di loro con passione e con gran silenzio
- C (-0,25) Pesò su di loro con forza e con grande eco
- D (-0,25) Si avventò su di loro con fobia e gran frastuono
- E (-0,25) Piovve su di loro con entusiasmo e gran boato

Leggere il brano e rispondere a ogni quesito solo in base alle informazioni contenute (esplicitamente o implicitamente) nel brano e non in base a quanto il candidato eventualmente conosca sull'argomento.

Poco dopo fu ancora più contento, ed ebbe motivo di ringraziare la sua fortuna (e la sua giumenta). Sì, perché proprio verso mezzogiorno - era la festa della Candelora, e il loro settimo giorno di viaggio - Mordicoda balzò fuori dalla sua guaina, e il drago fuori dalla sua caverna. Senza preavviso né formalità saltò fuori a dar battaglia. Piombò su di loro d'impeto e con gran fragore. Lontano da casa non s'era mostrato particolarmente coraggioso, nonostante il suo antico lignaggio imperiale. Ma ora era colmo d'ira, perché stava combattendo sull'uscio di casa sua, per così dire, e con tutto il suo tesoro da difendere. Sbuò da dietro uno sprone della montagna come un enorme fulmine, facendo un boato come di uno scoppio, e con una raffica di lampi rossi. La discussione riguardante la precedenza s'interruppe di colpo. Tutti i cavalli scartarono, chi da un lato chi dall'altro, e alcuni cavalieri furono disarcionati. I cavallini e le salmerie e i servi fecero subito dietrofront e si misero a correre. Loro non avevano alcun dubbio sull'ordine di precedenza. Improvvisamente una raffica di fumo li investì, soffocandoli tutti, e proprio dal bel mezzo il drago piombò sulla testa della fila. Diversi cavalieri furono uccisi ancor prima che potessero formalmente lanciare la loro sfida di battaglia, e molti altri furono investiti e finirono ruzzoloni, con i cavalli e tutto il resto. Quanto agli altri, se ne presero carico i loro destrieri, i quali fecero velocemente dietrofront e fuggirono, trascinando i loro padroni, che essi lo volessero o no. La maggior parte lo voleva, eccome.

Ma la vecchia giumenta grigia non si mosse. Forse temeva di spezzarsi le zampe sul ripido sentiero sassoso. Forse si sentiva troppo stanca per scappare. Sapeva fin dentro le ossa che i draghi alati è più pericoloso averli alle spalle che davanti, e bisognerebbe essere più veloci di un cavallo da corsa per riuscire a fuggire. E poi aveva già visto questo Chrysophylax prima d'ora, e ricordava di averlo inseguito per campi e ruscelli nella sua regione, finché s'era accasciato, mansueto, sulla strada principale del villaggio. Ad ogni modo si puntò sulle zampe ben divaricate, e sbuffò. La faccia dell'agricoltore non avrebbe potuto impallidire di più, ma le rimase accanto; perché non sembrava esserci altro da fare.

E fu così che il drago, mentre caricava tutta la fila, vide improvvisamente davanti a sé il suo vecchio nemico con in mano Mordicoda. Era l'ultima cosa che si sarebbe aspettato. Virò di lato come un grande pipistrello e andò a sbattere sul versante della collina vicino alla strada. La giumenta grigia avanzò, del tutto dimentica di essere zoppa. Giles l'Agricoltore, alquanto incoraggiato, le si era arrampicato in groppa in tutta fretta.

«Scusami,» disse, «ma stavi per caso cercando me?» «No davvero!» rispose Chrysophylax. «Chi avrebbe mai pensato di trovarti qui? Stavo semplicemente volando qua in giro.»

«Allora è la buona sorte che ci ha fatto incontrare» disse Giles, «e il piacere è mio; perché stavo cercando proprio te. Per di più, ho un conto da saldare con te; diversi conti, per così dire.»

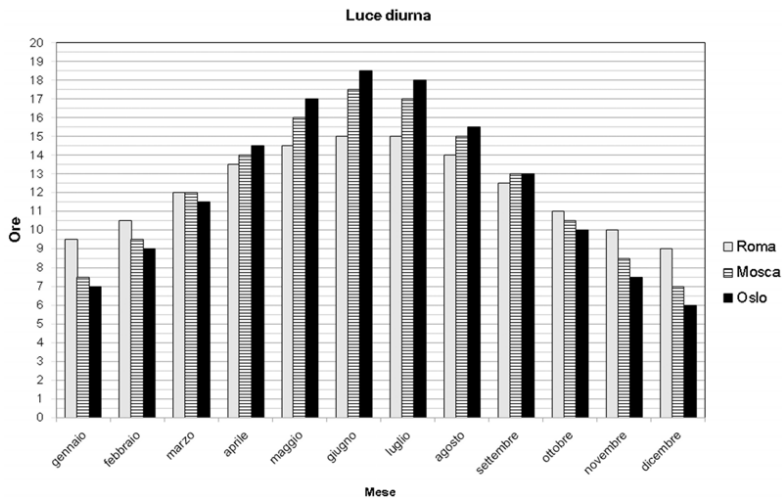
(da "Il Cacciatore di Draghi", di J. R. R. Tolkien)

Quali dei seguenti abbinamenti è FALSO?

- A (1) Giles - timido ✓ (Risposta esatta)
- B (-0,25) Drago - iroso
- C (-0,25) Drago - veloce
- D (-0,25) Giumenta - zoppa
- E (-0,25) Giles - pallido

48 -- 48 (Categoria: 2_LCG)

Il Grafico illustra come varia la quantità di ore di luce in tre diverse città europee, su media mensile.

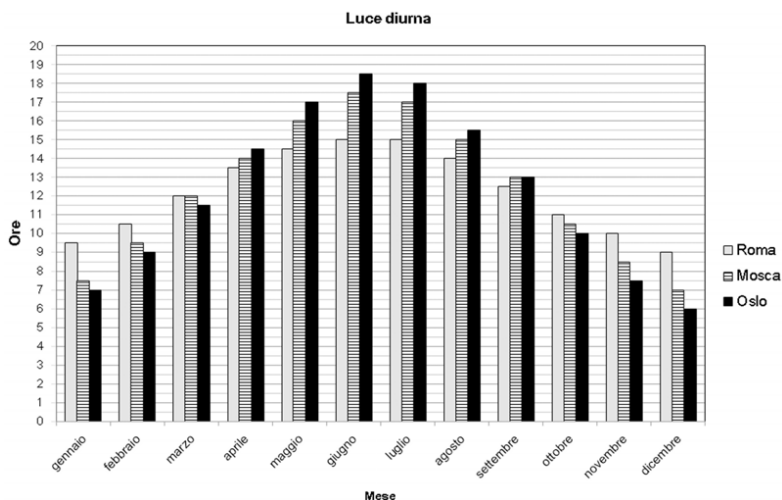


A Roma, nei primi sei mesi dell'anno, le ore di luce sono in media:

- A (1) 12.5 ✓ (Risposta esatta)
- B (-0,25) 11.5
- C (-0,25) 12
- D (-0,25) 13.5
- E (-0,25) 9

49 -- 49 (Categoria: 2_LCG)

Il Grafico illustra come varia la quantità di ore di luce in tre diverse città europee, su media mensile.



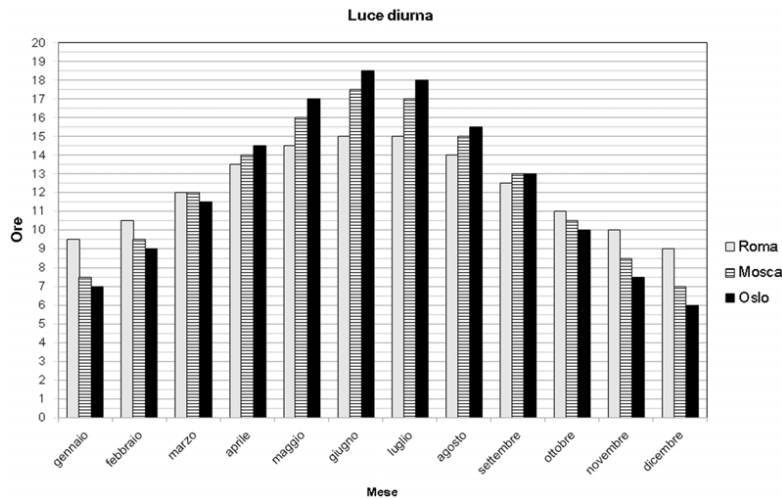
Nei mesi di marzo e di settembre:

- A (1) le differenze tra le ore di luce nelle diverse località si riducono al minimo ✓ (Risposta esatta)
- B (-0,25) la media delle ore di luce è pari a 12, per tutte le città considerate

- C (-0,25) le differenze tra le ore di luce nelle diverse località raggiunge valori massimi
- D (-0,25) a Roma le ore di buio sono 14
- E (-0,25) si verificano sempre eclissi di sole

50 -- 50 (Categoria: 2_LCG)

Il Grafico illustra come varia la quantità di ore di luce in tre diverse città europee, su media mensile.



Quale delle seguenti affermazioni è corretta?

- A (1) Durante il mese di giugno, maggiore è la latitudine alla quale si trova la città e maggiore sarà il numero di ore di luce **✓ (Risposta esatta)**
- B (-0,25) Durante il mese di giugno, minore è la latitudine a cui si trova la città e maggiore sarà il numero di ore di luce
- C (-0,25) Durante il mese di novembre, maggiore è la latitudine a cui si trova la città e maggiore sarà il numero di ore di luce
- D (-0,25) Durante il mese di novembre, minore è la latitudine a cui si trova la città e minore sarà il numero di ore di luce
- E (-0,25) La quantità di ore di luce dipende dalla posizione della Luna rispetto alla Terra

51 -- 51 (Categoria: 3_REG)

Il Comitato Nazionale per la Bioetica ha la funzione di:

- A (1) fornire indicazioni etiche per le scelte legislative del Parlamento in materia di pratica medica e biologica **✓ (Risposta esatta)**
- B (-0,25) obbligare l'adozione delle direttive del Comitato Direttivo di Bioetica del Consiglio d'Europa
- C (-0,25) trovare risposte univoche e definitive alle problematiche etiche sollevate dalle applicazioni biotecnologiche
- D (-0,25) elaborare i testi di legge in materia di bioetica
- E (-0,25) fungere da Tribunale per i Diritti del malato in caso di abusi nella pratica medica

52 -- 52 (Categoria: 3_REG)

L'ostetrica/o regolarmente abilitata/o, per poter esercitare la professione in qualunque forma giuridica (pubblica o privata), ha l'obbligo per legge di:

- A** (1) iscriversi all'albo professionale specifico ✓ **(Risposta esatta)**
 - B** (-0,25) acquisire 150 ECM annuali
 - C** (-0,25) registrarsi alla Camera di Commercio
 - D** (-0,25) iscriversi alle liste delle libere professioni
 - E** (-0,25) iscriversi a un'associazione scientifica
-

53 -- 53 (Categoria: 3_REG)

Con quale legge è stata istituita la funzione dei Professionisti Coordinatori con il possesso di "Master di I livello in Management e coordinamento delle professioni sanitarie"?

- A** (1) 43/2006 ✓ **(Risposta esatta)**
 - B** (-0,25) 502/1992
 - C** (-0,25) 49/1999
 - D** (-0,25) 251/2000
 - E** (-0,25) 149/1977
-

54 -- 54 (Categoria: 3_REG)

In base al Codice Deontologico degli Infermieri, l'infermiere si impegna a sostenere la relazione assistenziale anche qualora la persona assistita manifesti concezioni etiche diverse dalle proprie. Può avvalersi della "clausola di coscienza"?

- A** (1) Sì, può, ricercando costantemente il dialogo con la persona assistita, le altre figure professionali e le istituzioni ✓ **(Risposta esatta)**
 - B** (-0,25) No, in nessun caso
 - C** (-0,25) No, solo i medici possono avvalersi della "clausola di coscienza"
 - D** (-0,25) Sì, ma solo se la relazione assistenziale richiesta implica un'attività contraria alla legge
 - E** (-0,25) Sì, ma solo se la relazione assistenziale riguarda l'interruzione di gravidanza o le cure palliative per malati terminali
-

55 -- 55 (Categoria: 3_REG)

Il decreto legge del 7 giugno 2017, n. 73 "Disposizioni urgenti in materia di prevenzione vaccinale", come modificato dalla Legge di conversione 31 luglio 2017, n. 119, quali vaccinazioni obbligatorie prevede per i minori di età compresa tra zero e sedici anni e per i minori stranieri non accompagnati?

- A** (1) Anti-poliomielitica, anti-difterica, anti-tetanica, anti-epatite B, anti-pertosse, anti-Haemophilus influenzae tipo b, anti-morbillo, anti-rosolia, anti-parotite e anti-varicella ✓ **(Risposta esatta)**
- B** (-0,25) Solo anti-poliomielitica, anti-difterica, anti-tetanica, anti-epatite B, anti-morbillo, anti-rosolia, anti-parotite e anti-varicella

- C** (-0,25) Solo anti-poliomielitica, anti-difterica, anti-tetanica, anti-epatite B, anti-pertosse, anti-Haemophilus influenzae tipo b, anti-rosolia, anti-parotite e anti-varicella
- D** (-0,25) Solo anti-difterite, anti-epatite B, anti-Haemophilus influenzae di tipo B, anti-pertosse, anti-poliomielite, anti-tetanica
- E** (-0,25) Anti-difterite, anti-epatite B, anti-Haemophilus influenzae di tipo B, anti-pertosse, anti-poliomielite, anti-tetanica, anti-meningococco C
-

56 -- 56 (Categoria: 3_REG)

Indicare quale dei seguenti Decreti ministeriali regola la figura dell'ostetrica e il relativo Profilo Professionale.

- A** (1) D.m. 740/1994 ✓ **(Risposta esatta)**
- B** (-0,25) D.m. 739/1994
- C** (-0,25) D.m. 739/1998
- D** (-0,25) D.m. 740/1998
- E** (-0,25) D.m. 740/1996
-

57 -- 57 (Categoria: 3_REG)

Quale norma ha introdotto l'utilizzo dei defibrillatori semiautomatici in ambiente extraospedaliero?

- A** (1) Legge 3 aprile 2001, n. 120 ✓ **(Risposta esatta)**
- B** (-0,25) Legge 1 febbraio 2006, n. 43
- C** (-0,25) Legge 10 agosto 2000, n. 251
- D** (-0,25) Legge 8 marzo 2017, n. 24
- E** (-0,25) Legge 15 marzo 2004, n. 69
-

58 -- 58 (Categoria: 3_REG)

Ai sensi della legge 8 marzo 2017, n. 24, gli esercenti delle professioni sanitarie, nell'esecuzione delle prestazioni sanitarie, si attengono alle raccomandazioni previste dalle linee guida elaborate da enti e istituzioni pubbliche e private, nonché:

- A** (1) dalle società scientifiche e dalle associazioni tecnico-scientifiche delle professioni sanitarie ✓ **(Risposta esatta)**
- B** (-0,25) dalle società scientifiche e dalle Commissioni Professionali Inter-ministeriali
- C** (-0,25) dal Ministero della Salute e dalle associazioni tecnico-scientifiche delle professioni sanitarie
- D** (-0,25) dal Ministero della Salute, di concerto con l'Istituto Superiore di Sanità
- E** (-0,25) dalle società scientifiche e dagli Ordini Professionali delle Professioni Sanitarie nonché della Professione Medica
-

59 -- 59 (Categoria: 3_REG)

Indicare l'affermazione ERRATA in riferimento alla legge 13 maggio 1978, n. 180, articolo 1.

- A (1)** Nel corso del trattamento sanitario obbligatorio, chi vi è sottoposto ha diritto di comunicare solo con il personale medico e assistenziale ✓ **(Risposta esatta)**
- B (-0,25)** Gli accertamenti e i trattamenti sanitari obbligatori sono disposti con provvedimento del sindaco, nella sua qualità di autorità sanitaria locale, su proposta motivata di un medico
- C (-0,25)** Possono essere disposti dall'autorità sanitaria accertamenti e trattamenti sanitari obbligatori nel rispetto della dignità della persona e dei diritti civili e politici garantiti dalla Costituzione, compreso per quanto possibile il diritto alla libera scelta del medico e del luogo di cura
- D (-0,25)** Gli accertamenti e i trattamenti sanitari obbligatori a carico dello Stato e di enti o istituzioni pubbliche sono attuati dai presidi sanitari pubblici territoriali e, ove necessari la degenza, nelle strutture ospedaliere pubbliche o convenzionate
- E (-0,25)** Gli accertamenti e i trattamenti sanitari obbligatori devono essere accompagnati da iniziative rivolte ad assicurare il consenso e la partecipazione da parte di chi vi è obbligato
-

60 -- 60 (Categoria: 3_REG)

Ai sensi del d.m. 14 settembre, n. 739, quale dei seguenti NON è un compito che riguarda il profilo professionale dell'infermiere?

- A (1)** Identifica i bisogni di assistenza infermieristica della persona e della collettività ma deve avvalersi di un medico per la formulazione dei relativi obiettivi ✓ **(Risposta esatta)**
- B (-0,25)** Partecipa all'identificazione dei bisogni di salute della persona e della collettività
- C (-0,25)** Pianifica, gestisce e valuta l'intervento assistenziale infermieristico
- D (-0,25)** Garantisce la corretta applicazione delle prescrizioni diagnostico-terapeutiche
- E (-0,25)** Per l'espletamento delle funzioni si avvale, ove necessario, dell'opera del personale di supporto
-

61 -- 61 (Categoria: 4_SMI)

Si può definire "giorno solare" il tempo impiegato:

- A (1)** dalla Terra per compiere una rotazione completa su se stessa ✓ **(Risposta esatta)**
- B (-0,25)** dalla Terra per compiere una rivoluzione completa intorno al Sole
- C (-0,25)** dal Sole per compiere una rotazione completa su se stesso
- D (-0,25)** dalla Luna per compiere una rivoluzione completa intorno al Sole
- E (-0,25)** dalla Luna per compiere una rivoluzione completa intorno alla Terra
-

62 -- 62 (Categoria: 4_SMI)


Quale dei seguenti gas è il principale responsabile dell'effetto serra?

- A (1)** CO₂ ✓ **(Risposta esatta)**
- B (-0,25)** He
- C (-0,25)** SO₂

- D** (-0,25) N₂
E (-0,25) O₂
-


63 -- 63 (Categoria: 4_SMI)

Quale dei seguenti è un dispositivo di puntamento?

- A** (1) Mouse  **(Risposta esatta)**
B (-0,25) Webcam
C (-0,25) Minidrive USB
D (-0,25) Plotter
E (-0,25) Scanner
-


64 -- 64 (Categoria: 4_SMI)

Se la distribuzione di probabilità di una variabile casuale x è una gaussiana, centrata su X e varianza σ^2 , la probabilità che x cada entro $\pm 2\sigma$ dal valore X è:

- A** (1) 95,4%  **(Risposta esatta)**
B (-0,25) 68,3%
C (-0,25) 99%
D (-0,25) 50%
E (-0,25) nessuna delle altre risposte è corretta
-

65 -- 65 (Categoria: 4_SMI)

Cosa si intende con JPEG?

- A** (1) Un formato di compressione digitale  **(Risposta esatta)**
B (-0,25) Il primo PC prodotto da Olivetti
C (-0,25) Un tipo di programma informatico
D (-0,25) Un noto "writer"
E (-0,25) Uno strumento grafico
-


66 -- 66 (Categoria: 4_SMI)

Quale dei seguenti studiosi ha scoperto il bacillo della tubercolosi?

- A** (1) Robert Koch  **(Risposta esatta)**
B (-0,25) Alexander Fleming
C (-0,25) Louis Pasteur
D (-0,25) Anton van Leeuwenhoek
E (-0,25) Martinus Beijerinck
-


67 -- 67 (Categoria: 4_SMI)

Il tasso di prevalenza di una malattia è:

- A** (1) il numero di casi di malattia diviso la popolazione totale in un dato momento  **(Risposta esatta)**
 - B** (-0,25) il numero di casi di malattia presenti nella popolazione in un dato momento
 - C** (-0,25) il numero di individui a rischio di sviluppare la malattia in un dato periodo
 - D** (-0,25) il numero di nuovi casi di malattia diviso la popolazione a rischio in un dato intervallo di tempo
 - E** (-0,25) il numero di nuovi casi di malattia
-


68 -- 68 (Categoria: 4_SMI)

Find a synonym of the word "pavement".

- A** (1) Footpath  **(Risposta esatta)**
 - B** (-0,25) Floor
 - C** (-0,25) Deck
 - D** (-0,25) Tile
 - E** (-0,25) Tier
-


69 -- 69 (Categoria: 4_SMI)

Calcolare l'area di un rettangolo che ha il perimetro di 47 cm e l'altezza di 6 cm.

- A** (1) 105 centimetri quadrati  **(Risposta esatta)**
 - B** (-0,25) 123 centimetri quadrati
 - C** (-0,25) 210 centimetri quadrati
 - D** (-0,25) 420 centimetri quadrati
 - E** (-0,25) 94 centimetri quadrati
-

70 -- 70 (Categoria: 4_SMI)

Fill in the blanks. "Karol, could you ... ? I want to sleep".

- A** (1) switch off the TV  **(Risposta esatta)**
 - B** (-0,25) turn back the TV
 - C** (-0,25) switch the TV
 - D** (-0,25) turn the TV away
 - E** (-0,25) put the TV
-

71 -- 71 (Categoria: 5_SUS)

Quali sono i principi fondamentali della bioetica?

- A** (1) Beneficialità, autonomia, giustizia e non maleficenza  **(Risposta esatta)**

- B** (-0,25) Solo beneficiabilità e non maleficenza
 - C** (-0,25) Autonomia, beneficiabilità, riduzione delle spese e conseguente vantaggio economico
 - D** (-0,25) Solo giustizia, beneficiabilità e integrità morale
 - E** (-0,25) Integrità morale, giustizia, beneficiabilità e autonomia decisionale
-

72 -- 72 (Categoria: 5_SUS)

Nella Piramide di A. Maslow, subito dopo il bisogno "fisiologico", al secondo posto (partendo dalla base), si trova il bisogno di:

- A** (1) sicurezza ✓ **(Risposta esatta)**
 - B** (-0,25) socializzazione
 - C** (-0,25) stima
 - D** (-0,25) controllo
 - E** (-0,25) autorealizzazione
-

73 -- 73 (Categoria: 5_SUS)

Uno dei concetti di base della sociologia è il concetto di azione sociale. La definizione classica che viene utilizzata è quella data da Weber, dove per "agire sociale" si intende:

- A** (1) un agire riferito al comportamento di altri individui e orientato nel suo corso in base a questo ✓ **(Risposta esatta)**
 - B** (-0,25) una quota personale del singolo individuo intesa come parte del capitale sociale di una società
 - C** (-0,25) un agire individuale che viene preso a modello dagli altri individui della stessa società
 - D** (-0,25) la regola base che fonda ogni tipo di società
 - E** (-0,25) un agire empatico nei confronti degli altri
-

74 -- 74 (Categoria: 5_SUS)

Secondo la teoria psicoanalitica di S. Freud, la personalità è suddivisa in tre sistemi principali. Quali sono e a quali principi/funzioni rispondono?

- A** (1) L'Es, che opera sulla base del principio del piacere; l'Io, che risponde al principio di realtà; il Super-Io, che è la rappresentazione interiorizzata dei valori e della morale della società ✓ **(Risposta esatta)**
- B** (-0,25) L'Es, che risponde al principio di realtà; L'Io, che risponde al principio del piacere; il Super-Io che coincide con l'inconscio
- C** (-0,25) L'Es, che è identificabile con l'inconscio; l'Io che è rappresentato da pre-conscio; il Super-Io che è rappresentato dal conscio
- D** (-0,25) L'Es, che coincide con la libido; l'Io che coincide con la razionalità; il Super-Io che coincide con la parte emotiva
- E** (-0,25) La Coscienza, che raccoglie le istanze razionali; l'Inconscio, che coincide con ciò di cui non abbiamo consapevolezza; il Pre-conscio, che rappresenta gli status emotivi

75 -- 75 (Categoria: 5_SUS)

Cosa si intende con resilienza in psicologia?

- A** (1) La capacità di far fronte a situazioni critiche ✓ **(Risposta esatta)**
- B** (-0,25) La disponibilità ai contatti con l'esterno
- C** (-0,25) La capacità di resistere alle tentazioni
- D** (-0,25) La fragilità di fronte alle frustrazioni
- E** (-0,25) La tendenza a mantenere un comportamento costante nel pericolo

76 -- 76 (Categoria: 5_SUS)

Emile Durkheim è stato:

- A** (1) uno dei padri fondatori della sociologia ✓ **(Risposta esatta)**
- B** (-0,25) l'esponente fondamentale del neokantismo tedesco ottocentesco
- C** (-0,25) il padre della linguistica strutturale
- D** (-0,25) insieme a Jung, uno dei più originali discepoli di Freud e riformatori della psicoanalisi
- E** (-0,25) il fondatore del "Circolo di Vienna" e del neopositivismo logico

77 -- 77 (Categoria: 5_SUS)

Max Weber ha scritto:

- A** (1) L'etica protestante e lo spirito del capitalismo ✓ **(Risposta esatta)**
- B** (-0,25) L'etica marxista e lo sviluppo del socialismo
- C** (-0,25) L'etica laica e lo sviluppo del capitalismo
- D** (-0,25) L'etica cattolica e lo sviluppo del capitalismo
- E** (-0,25) L'etica scettica e lo sviluppo della democrazia

78 -- 78 (Categoria: 5_SUS)

In psicologia, cosa si intende per "coping"?

- A** (1) Strategie per affrontare lo stress ✓ **(Risposta esatta)**
- B** (-0,25) Strategie metacognitive
- C** (-0,25) Strategie antidepressive
- D** (-0,25) Strategie ansiose
- E** (-0,25) Strategie terapeutiche

79 -- 79 (Categoria: 5_SUS)

Qual è la definizione sociologica di "comportamento collettivo"?

- A (1)** Un insieme di individui sottoposti a uno stesso stimolo che interagiscono e reagiscono fra loro in situazioni senza sicuro riferimento a ruoli definiti e stabilizzati
✓ **(Risposta esatta)**
- B (-0,25)** Un insieme di individui che interagiscono tra loro con continuità, sulla base di aspettative di ruolo stabilizzate
- C (-0,25)** L'adesione ferma e incondizionata di un insieme di individui alle norme sociali
- D (-0,25)** Un insieme di individui che orientano la propria azione sociale in base ai valori sociali di riferimento
- E (-0,25)** Un particolare atteggiamento individuale che riguarda la sfera sociale e che privilegia l'interesse collettivo al benessere individuale
-

80 -- 80 (Categoria: 5_SUS)

Individuare l'affermazione corretta con riguardo alla distinzione sociologica tra i concetti di "genere" e "sesso".

- A (1)** Il sesso è l'insieme degli attributi della donna e dell'uomo riconducibili alle caratteristiche biologiche mentre il genere è l'insieme delle loro qualità distintive (mascolinità e femminilità) definite culturalmente ✓ **(Risposta esatta)**
- B (-0,25)** Il sesso attiene alla sfera sociale mentre il genere è la percezione individuale con cui ogni persona che si identifica e si definisce come "femmina" o "maschio"
- C (-0,25)** Il sesso è l'insieme delle caratteristiche psico-fisiche degli individui mentre il genere è un'attribuzione personale che ciascuno opera intimamente
- D (-0,25)** Il sesso corrisponde alle caratteristiche biologiche dell'uomo o della donna, mentre il genere riguarda l'orientamento sessuale di ciascun individuo
- E (-0,25)** Il sesso è una caratteristica che viene attribuita a livello individuale mentre il genere è un'attribuzione sociale